








Institución Educativa Dinamarca
Tecnología e Informática
Grado _____
Taller N° 1 de Microsoft Word
Resolver en el cuaderno de Informática

1. Consulta la función de los siguientes botones:

BOTÓN	SIRVE PARA
	
	
	
	
	
	
	

2. ¿Como se realizan las siguientes operaciones con el teclado?

OPERACIÓN	FORMAS DE REALIZAR CON EL TECLADO
Cerrar la ventana de Word	
Guardar un Archivo	
Seleccionar Texto	
Copiar	
Cortar	
Pegar	
Buscar	
Reemplazar	
Deshacer	
Rehacer	

3. ¿A qué se refieren los siguientes términos relacionados con el procesador de texto Word:

Vistas de un documento: _____

Formato al texto: _____

Letras Capitales: _____

4. Completa las siguientes ideas:

Una fuente es _____








Las Opciones de Alineación son _____

Las Sangrías pueden ser _____

5. Completa la siguiente tabla con la función de los métodos abreviados mencionados

METODO ABREVIADO	SIRVE PARA
Crtl +A	
Crtl +G	
Crtl +K	
Crtl +M	
Crtl +N	
Crtl +S	
Crtl +U	
F12	






6. Cual es la función de los siguientes botones:

BOTÓN	SIRVE PARA
	
	
	
	
	
	
	

7. Cómo se realizan las siguientes operaciones con el teclado

OPERACIÓN	FORMA DE REALIZAR CON EL TECLADO
Aplicar Negrita	
Aplicar Cursiva	
Aplicar Subrayado	
Aplicar alinear a la izquierda	
Aplicar alinear a la derecha	
Aplicar alinear Centrar	
Aplicar alinear Justificar texto	

8.Cuál es la función de los siguientes botones:

BOTON	SIRVE PARA
	
	
	
	
	

9. ¿Para qué se utilizan las siguientes teclas en Word?

Alt _____

 AvPág _____

 Barra espaciadora _____

 BloqMayús _____

 BloqNum _____

 Ctrl. _____

 Enter _____

 Esc _____

Fin _____

 Inicio _____

 RePág _____

 Retroceso _____

 Shift _____

 Supr _____

 Tabulador _____

 F1 _____
